

Направление «Культура дома, дизайн и технологии»
5-6 класс

Теоретический тур

Время выполнения заданий – 45 мин.

Максимальное количество первичных баллов – 20

Общая часть.

Задание 1. Определите, к какому виду художественной росписи относится изделие, изображённое на рисунке (1 балл).

- А) Гжельская роспись;
- Б) Мезенская роспись;
- В) Городецкая роспись;
- Г) Жостовская роспись;
- Д) Хохломская роспись;
- Е) Семикаракорская роспись

Ответ: Б 18.



Задание 2. Рядом с вашим домом установили три бака для раздельного сбора бытового мусора (1 балл).



Какие предметы нужно положить в бак «пластик»?

- А) Картонную коробку;
- Б) Бутылки из-под шампуня;
- В) Просроченные продукты;
- Г) Полиэтиленовые пакеты;
- Д) Зубные щетки

Ответ: Б, Г, Д 18.

Задание 3. Деревянный брус имеет форму прямоугольного параллелепипеда. Длина бруса равна 60 см, ширина 15 см, высота 150 мм. Определите объём данного бруса.

Ответ выразите в кубических сантиметрах (3 балла).

Ответ: 90 см³ 135 000 см³ 38.

Специальная часть.

ребус (1 балл)

Ответ: Потешные 18.

Задание 5. Вставьте пропущенное слово в пословицу (1 балл).


Труда человека кормит, а лень портит 18.

Задание 6. Определите лишнюю операцию при выполнении изделия в технике аппликации из бумаги(1 балл):

- А) Разметить детали по шаблону;
- Б) Составить композицию;
- В) Вырезать детали;
- Г) Наклеить детали на фон;
- Д) Детали сшить нитками

Ответ: Д 15.

Задание 7. Внимательно рассмотрите изображения сервировки стола. Выберите изображение сервировки стола к завтраку(1 балл).



Ответ: Б 15.

Задание 8. Из предложенного списка выберите блюдо, в рецепт которого входят только пищевые продукты растительного происхождения(1 балл).

- А) Омлет;
- Б) Какао;
- В) Блинчики;
- Г) Винегрет

Ответ: Г 15.




Задание 9. Найдите лишнюю фигуру(1 балл):

- А) Квадрат;
- Б) Круг;
- В) Шар;
- Г) Треугольник

Ответ: В 15.

Задание 10. Установите соответствие между названиями профессий и рисунками, изображающими представителей этих профессий(3 балла).

Профессия	Рисунок
-----------	---------

1	столяр	А	
2	продавец	Б	
3	летчик	В	

Ответ: 1-В, 2-А, 3-Б. 38.

Задание 11. Кейс-задание(6 баллов).

Праздник каши отмечается ежегодно по всему миру **10 октября**.

Этот праздник объединил всех любителей каши – традиционного блюда многих народов. В культуре русского народа, в его кулинарных традициях каша занимает особое место. Не случайной стала поговорка «Щи, да каша – пища наша».

Каша – уникальное блюдо, есть она у каждого народа.

Интересные факты из истории русской каши:

1. На Руси каша всегда занимала главное место на столе богатых и бедных людей. Ни одно застолье не обходилось без каши.

2. Кашу не зря называют богатырской едой. Она помогает детям расти здоровыми и сильными, а взрослым дает силу и энергию. Непроста народная мудрость гласит: «Каша – матушка наша».

3. Наши предки кашей называли не только блюда из круп. Варили кашу из овощей: тыквы, репы.

4. В старину был даже праздник каши 26 июня. В этот день украшали дома букетами гречихи и просили святую Акулину, чтобы она дала богатый урожай.


5. У русских князей существовал обычай – в знак примирения с врагом варить кашу. Без каши мирный договор считался недействительным. С тех пор про несговорчивых людей



говорят: «С ним каши не сваришь».

Представьте, что ваша лучшая подруга Маша, решила устроить тематический завтрак, посвященный празднику каши, и попросила вас помочь ей с организацией данного мероприятия.

1. Нарисуйте открытку - приглашение на завтрак и придумайте текст приглашения (2 балла).



2. Выберите (подчеркните) продукты, которые вам потребуются для приготовления **манной** каши (2 балла).

1. Молоко;
2. Крупа (манная);
3. Яйцо;
4. Соль;
5. Какао;
6. Сливочное масло

3. Восстановите последовательность приготовления **манной** каши (2 балла).

- А) Молоко довести до кипения.
- Б) Огонь выключить, кашу закрыть крышкой и дать постоять 15 минут.
- В) Через сито всыпать манную крупу в кипящее молоко. Варить 2 минуты на сильном огне, постоянно помешивая.
- Г) В готовую кашу добавить соль, сахар и кусочек сливочного масла.

Ответ: А, В, Б, Г

Школьный этап
всероссийской олимпиады школьников по технологии
в Томской области 2024-2025 уч. г.

Направление «Культура дома, дизайн и технологии»
5-6 класс

Практический тур
Критерии оценивания

Шифр: 62

Карта пооперационного контроля по выполнению практической работы

№ п/п	Критерии оценки	Максимальный балл	Баллы по факту
1	Вышивка выполнена по контуру рисунка	8	8
2	Соблюдение длины стежков шва «вперёд иголку» (3 мм) и расстояний между ними (2 мм)	8	4
3	Качество изнаночной стороны	6	3
4	Внешний вид (гармоничная цветовая гамма, аккуратность выполненной работы)	9	9
5	Качественно выполненная влажно-тепловая обработка изделия	3	3
6	Соблюдение правил безопасной работы и правильная организация рабочего места	1	1
	Всего	35	25

Общая максимальная оценка по итогам выполнения заданий олимпиады по технологии

Этап	Класс	Теоретический тур	Практический тур	Итого
Школьный	5-6	20	35	55